

GUÍA N° 4

CAMBIOS GEOGRÁFICOS.

Unidad: Cambios geopolíticos en la segunda mitad del siglo XX.

Objetivos Fundamentales: Interpretar información de diversas fuentes para el análisis de procesos geográficos.

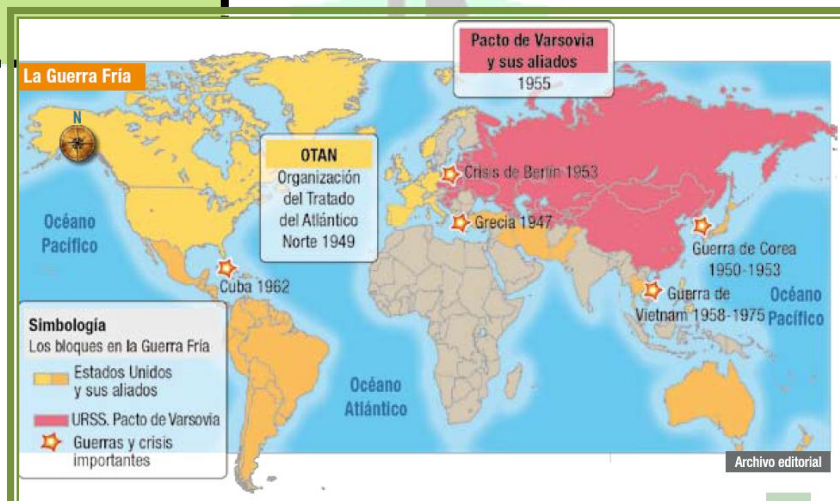
Mapas de Progreso:

Espacio Geográfico: Comprende que a través del tiempo han cambiado las formas en que los seres humanos se adaptan y transforman el espacio geográfico.

Espacio Geográfico: Selecciona fuentes de información pertinentes e interpreta información geográfica para analizar el dinamismo, la magnitud y alcance espacial de procesos naturales e históricos.

Actividades de conocimientos previos.

- 1-. ¿Podrías explicar el mapa que aparece en la parte inferior de esta página?
- 2-. ¿Cuáles fueron los principales cambios del mapa europeo, durante el siglo XX?
- 3-. Sabes ¿Cuál fue la nación que más territorio obtuvo luego de la II Guerra Mundial?

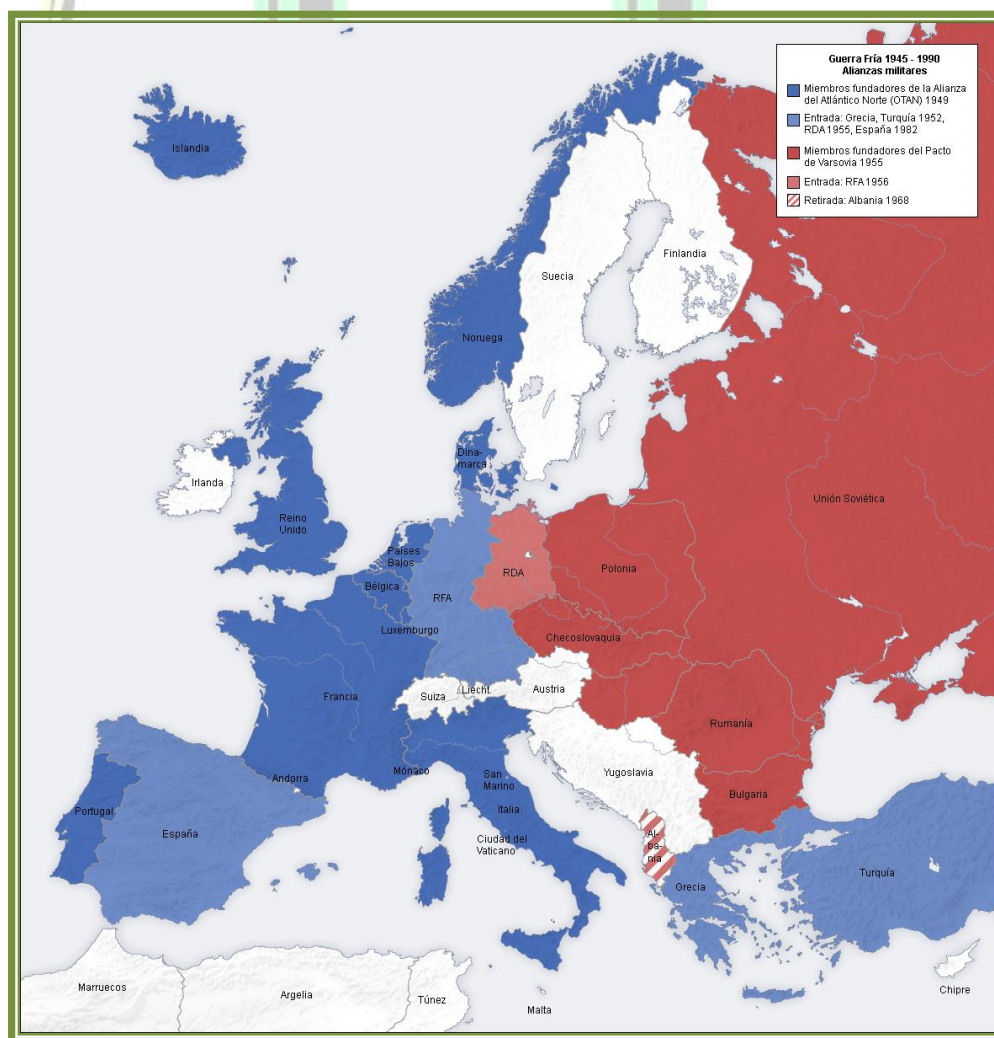


Fuente: Álvarez Gonzalo, Barahona Macarena, Latorre Ignacio; "Historia, Geografía y Ciencias Sociales I medio, Texto del Estudiante"; Ed. Zig-Zag; Santiago; Chile; 2010.

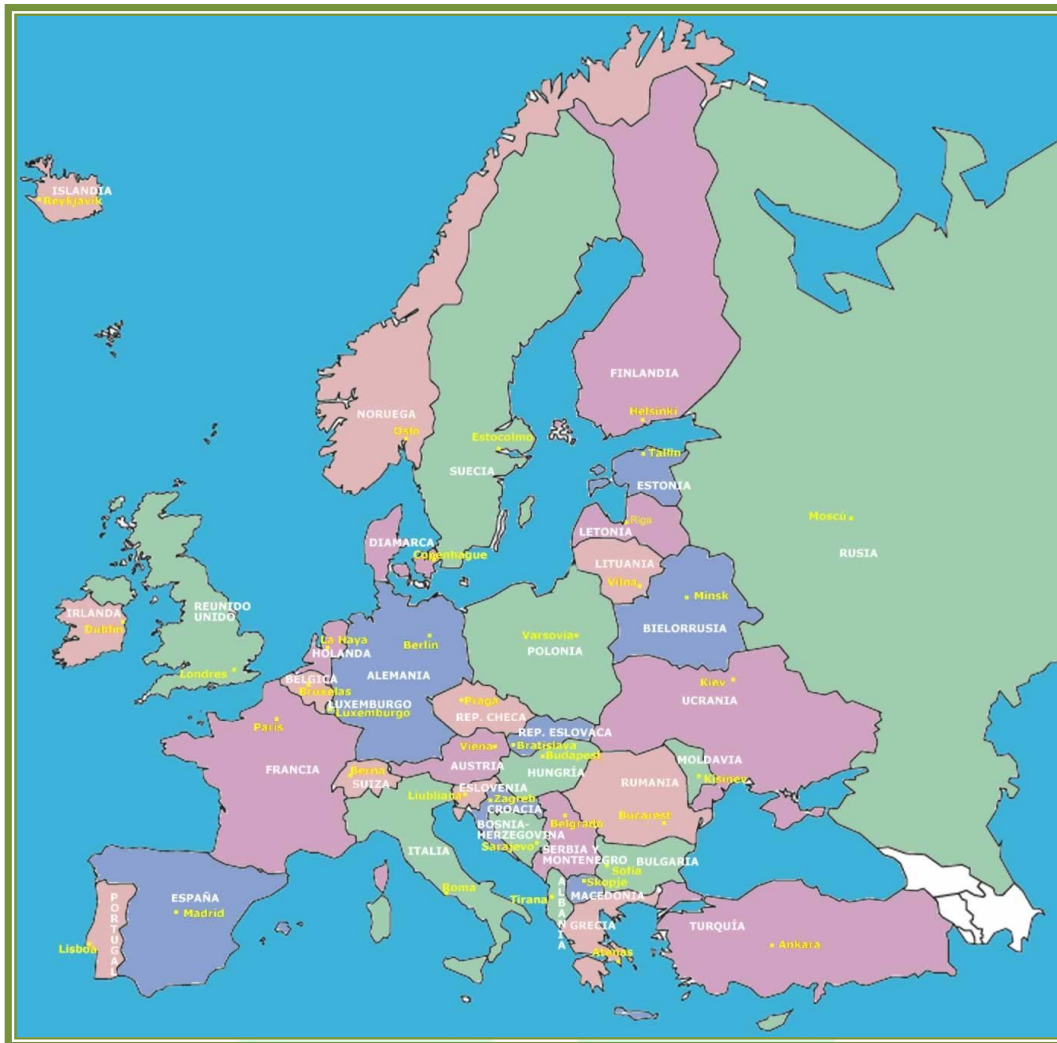
Análisis de Documentos Gráficos: Mapas de Europa.

Durante la II Guerra Mundial el mapa político de Europa estuvo sometido a importantes cambios, los cuales se consolidaron a través de las diversas conferencias, que dieron término a dicho conflicto. Pero fue durante la Guerra Fría, que esta nueva distribución territorial, tuvo su mayor auge.

Observa ambos mapas, e identifica los principales cambios que presentan, principalmente las fronteras, que han cambiado durante el desarrollo y término de la Guerra Fría. Realiza las actividades que se encuentran en la página siguiente:



Alianzas militares en la Guerra Fría. Disponible en: <http://guerrafriade3ro.blogspot.com/>



Mapa político de Europa. Disponible en: <http://www.mapapoliticoeuropa.com/>

Actividades.

- 1-. Realiza un cuadro comparativo, con las diferencias que encuentras.
- 2-. A partir del primer mapa presentado, ¿Podrías reconocer algún proceso ocurrido en la Guerra Fría?
- 3-. Reconoce ¿Cuáles son las naciones que surgieron una vez acabada la Guerra Fría?
- 4-. Identifica ¿Cuál fue el bloque que más territorio alcanzó durante este proceso?

Análisis de Fuentes

Lee y subraya las ideas principales de los textos que te presentamos a continuación. Luego realiza las actividades que aparecen en la página siguiente.

Conferencia de Yalta

La situación en el momento de la Conferencia favorecía claramente a Stalin. Tras las impresionantes ofensivas del Ejército Rojo en 1944, las tropas soviéticas se hallaban a 70 kilómetros de Berlín y ocupaban prácticamente toda la Europa central y oriental. Al mismo tiempo, el mantenimiento del pacto de neutralidad con Japón permitía a Moscú mantener una posición de fuerza en todo lo relacionado con las cuestiones polaca y alemana.

De Gaulle trató de que Francia fuera incluida en la Conferencia con escaso éxito. Roosevelt se negó a incluir a un país que había sido liberado por los anglosajones, aduciendo que su líder, De Gaulle, no había sido elegido por su pueblo.

Alemania sería desmilitarizada y dividida en cuatro zonas de ocupación de la URSS, EEUU, Gran Bretaña y Francia (incluida por demanda de Churchill). Estaría sujeta a fuertes reparaciones financieras y perdería la Prusia Oriental y parte de Pomerania, quedando su frontera oriental fijada en la línea marcada por los ríos Oder y Neisse. Se estableció que un tribunal internacional juzgaría a los principales criminales de guerra nazis. Lo que posteriormente llevó a los Juicios de Nüremberg.

Polonia sería "desplazada" hacia el oeste, anexionándose los territorios que Alemania perdía en el oriente y cediendo en el oriente los territorios que habían quedado bajo el dominio soviético tras el pacto de no agresión germano-soviético en 1939. El denominado Comité de Lublin, formado esencialmente por comunistas, constituirían el núcleo principal del futuro gobierno polaco, aunque también tendrán presencia los miembros del gobierno provisional polaco pro-occidental con sede en Londres.

Por último, se aprobó la denominada *Declaración sobre la Europa liberada* en la que los "Tres Grandes" se comprometieron a que la reconstrucción de Europa se hiciera por medios democráticos constituyendo gobiernos democráticos ampliamente representativos de todos los elementos no fascistas de cada nación. Esos gobiernos deberían convocar lo antes posible elecciones libres que permitieran la creación de gobiernos que emanaran de la voluntad popular.

Resoluciones Cumbre de Yalta, febrero 1945. Disponible en:
www.historiasiglo20.org.



Los tres grandes
durante la
Conferencia de Yalta
(4-11 de febrero de
1945):

Winston Churchill,
Franklin Roosevelt,
Joseph Stalin



- 1-. ¿Cuáles son las principales resoluciones que puedes apreciar en el documento?
- 2-. ¿Crees tú que las resoluciones que se aprecian en el documento, afectaron la vida de las personas que habitaban las naciones en conflicto?
- 3-. Las fronteras de Europa sufrieron cambios durante la mayor parte del siglo XX. En este sentido, si la decisión de hacer cambios en el mapa europeo fuera tuya, ¿Cuáles serían tus propuestas? Justifica tu respuesta.
- 4-. Reúnete con cuatro compañeros, comenta las resoluciones que tomaste. Luego realicen una resolución en conjunto, integrando las decisiones que han tomado cada uno. Compartan su resolución final con el resto del curso.

AUTOEVALUACIÓN.

- ✓ El poder realizar mis propias resoluciones acerca de problemáticas que han surgido durante la Guerra Fría, me ha permitido comprender ¿Cómo funcionan los organismos internacionales?
- ✓ ¿El trabajar este tipo de actividades, me motivan para seguir una carrera diplomática en el futuro?
- ✓ Si tuviera la oportunidad de representar a mi país, en un congreso internacional diplomático ¿Cómo lo haría? ¿Podría enfrentar la presión de estar en aquel lugar?
- ✓ Mi capacidad para poder convencer a las personas es muy alto, por lo tanto, ¿Podría conseguir una aprobación con mayoría de votos?